

Şekil Sayı Eşleştirme

→
= 0

▽
= 3

○
= 5

□
= 2

+

五
= 1

◇
= 9

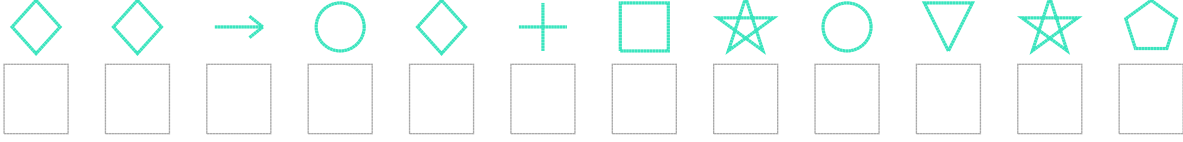
△
= 8

×

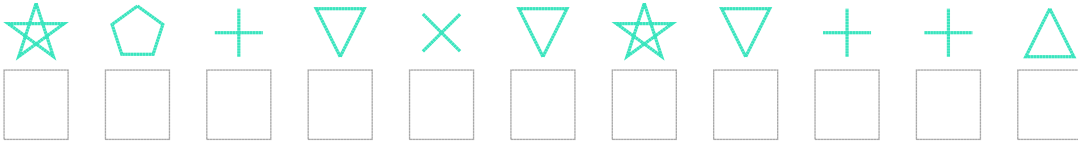
☆
= 4

Aşağıdaki uzun şifreleri hatasız çözerek altlarına yazın:

1. Şifre



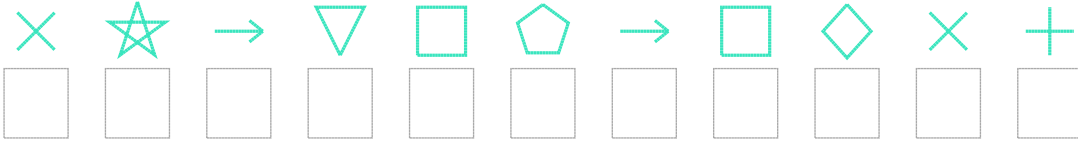
2. Şifre



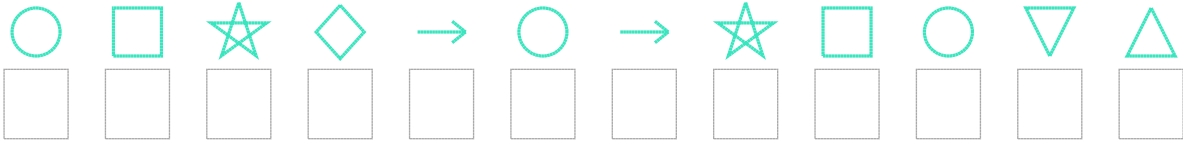
3. Şifre



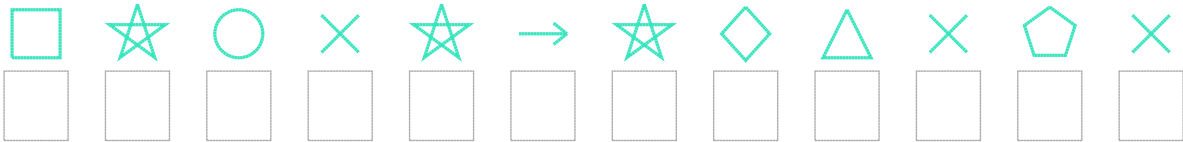
4. Şifre



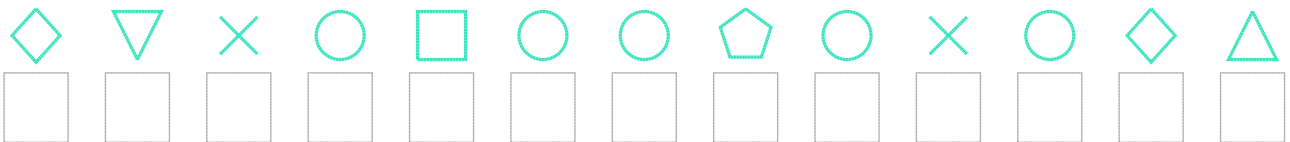
5. Şifre



6. Şifre



7. Şifre



□ BONUS: 6. ve 2. şifrenin üçüncü rakamının toplamı kaçtır?

Cevap Anahtarı

1. Şifre: 990596245341
2. Şifre: 41637343668
3. Şifre: 1784742231
4. Şifre: 74032102976
5. Şifre: 524905042538
6. Şifre: 245740498717
7. Şifre: 9375255157598

□ Bonus Soru Cevabı: 11